

Задания по номинации «Культура дома, дизайн и технологии»

8 класс

Время выполнения тестирования – 40 минут

Материаловедение

T-8A-5

1. Что служит сырьем для получения искусственных волокон?

- а) шерсть овцы
- б) хлопок
- в) отходы хлопка
- г) отходы угольного производства
- д) еловая древесина

15

2. Определите, что объединяет приведенный перечень слов: сизаль, рами, джут, кенаф, конопля.

Ответ: технические растительные волокна растительного происхождения

15

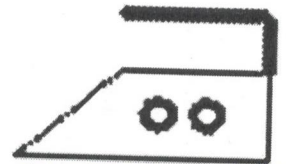

3. Подберите определение заданному свойству. В ответе запишите цифру из левого столбца и соответствующую правильному ответу букву из правого столбца:

1) драпируемость	А) способность изменять относительную влажность;
2) гигроскопичность	Б) способность образовывать мягкие складки;
	В) способность воспринимать пыль, загрязняться;
	Г) уменьшение размеров ткани при стирке, замачивании, ВТО.

15, В-А

15

4. Маша купила блузку и на ярлычке были нарисованы следующие символы. Что они означают?



стирка в утюге разрешена с температурой 40°

отбеливание запрещено

химчистка запрещена

Машиноведение

можно гладить при 140°С на доске

5. Укажите правильную последовательность заправки нижней нитки швейной машины:

- а) провести нить через косую прорезь шпульного колпачка
- б) вставить шпульный колпачок в челночное устройство
- в) вытянуть нижнюю нить вверх через отверстие в игольной пластине
- г) намотать нить на шпульку
- д) заправить нить под прижимную пружину шпульного колпачка
- е) вставить шпульку в шпульный колпачок

г, в, а, д, б, е 15

6. Если машинная строчка «петляет снизу», необходимо

- а) ослабить натяжение нижней нити
- б) ослабить натяжение верхней нити
- в) ослабить натяжение верхней и нижней нитей
- г) усилить натяжение верхней нити

15

7. Чтобы изменить направление строчки во время шитья, необходимо –

- а) поднять лапку при опущенной игле, поменять направление шитья, продолжить шить
- б) в процессе работы повернуть ткань в нужном направлении и продолжить строчку
- в) поднять лапку при опущенной игле, поменять направление шитья, опустить лапку
- г) поднять лапку при поднятой игле, поменять направление шитья, опустить лапку

15

**«Конструирование и моделирование плечевого изделия»**

**8. Установите соответствие между названием мерки и ее условным обозначением.**

Условные обозначения мерок	Название мерок	
1. Сг	а) Длина спины до талии	1-2
2. Вс	б) Обхват плеча	2-б
3. Сб	в) Высота сидения	3-в
4. Оп	г) Полуобхват груди	4-б
5. Дтс	д) Полуобхват талии	5-а
6. Ст	е) Полуобхват бедер	6-г
7. Шс	ж) Ширина спины	7-ж

**9. Определите соответствие**

А) Линия середины (сгиб)	4	
Б) Линия горловины спинки	1	
В) Линия плеча	3	
Г) Линия низа	6	
Д) Линия бокового шва (боковой срез)	5	
Е) Линия талии	4	
Ж) Линия горловины полочки	2	

**10. К способам моделирования конструкции ночной сорочки относятся**

- а) изменение формы выреза горловины
- б) изменение линии нижнего среза
- в) отделка среза горловины кружевом
- г) вышивка в области груди

**11. На выкройках швейных изделий следует указывать:**

- а) направление долевой нити
- б) направление уточной нити
- в) припуски на обработку швов
- г) сгибы ткани
- д) вид ткани
- е) количество деталей
- ж) лицевую и изнаночную стороны
- з) расположение накладных деталей

**12. Величина припусков на швы при раскрое деталей зависит от:**

- а) осыпаемости ткани;
- б) величины печатного рисунка;
- в) размера изделия;
- г) направления долевой нити.

**13. При маркировке размера женской одежды второе число обозначает (164 – 88 – 90)**

- а) рост
- б) обхват бедер
- в) обхват груди
- г) обхват талии

### Кулинария

14. Назовите зерновую культуру, из которой получают такую крупу, как пшено.

*Просо*

15. Визитной карточкой какой национальной кухни является капрезе?

- а) французской б) русской в) итальянской г) японской д) немецкой

16. Верны ли следующие утверждения о варке бульона?

- а) Для получения бульона рыбу (птицу, мясо, грибы) заливают горячей водой, доводят до кипения и варят до готовности при слабом кипении  
б) Для получения бульона рыбу (птицу, мясо, грибы) заливают холодной водой, доводят до кипения и варят до готовности при слабом кипении.

- 1) верно только А 2) верно только Б 3) верны оба действия 4) оба действия не верны

17. В словаре иностранных слов это слово означает «небольшой диван с приподнятым изголовьем», а в современной кухне – это маленький бутерброд на поджаренном хлебе. Что это за слово?

*Камаре*

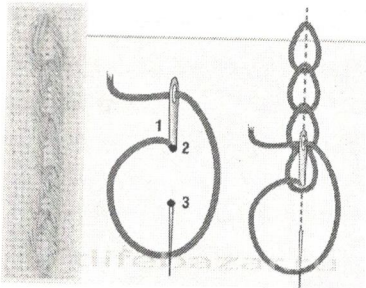
### Рукоделие

18. О какой технике декоративно-прикладного творчества идет речь?

Декоративная техника по ткани, посуде, мебели, которая заключается в вырезании изображений из различных материалов (ткани, бумаги и др.), а затем наклеивается на различные поверхности для декорирования.

- а) батик  
б) декупаж  
в) оригами  
г) лепка

19. Как называется данный шов в вышивке?



*Пятибурный*

20. Творческое задание. Придумайте модель туники из хлопчатобумажной ткани с использованием отделки.



*Итого: 25 баллов*